

# U zemlji znakova i riječi

Inicijalna provjera čitalačke pismenosti učenika 6., 7. i 8. razreda

*Dražen Oletić i Jasminka Poljanec*

# Način i sadržaj ispitivanja

- pitanja oblikovana prema uzoru na PISA ispitivanja čitalačke pismenosti
- rješavanje putem računala – MS Forms, korištenjem AAI@EduHr identiteta
- ispitivanje je provedeno u siječnju 2022. u 6., 7. i 8. razredu
- ispitano je 12 učenika 6. razreda, 18 učenika 7. razreda i 27 učenika 8. razreda

## KNJIŽEVNI TEKST

## NEKNJIŽEVNI TEKST

## TABLIČNI I GRAFIČKI PRIKAZI

## PLAKAT

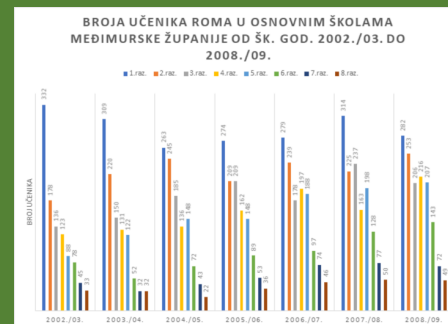
Ferenc Molnar  
Junaci Pavlove ulice

John Boyne  
Dječak u prugastoj  
pidžami

članak  
Tolerancija gradi bolje  
društvo

članak  
Školovanje i  
zapošljavanje Roma

	1.raz.	2.raz.	3.raz.	4.raz.	5.raz.	6.raz.	7.raz.	8.raz.	UKUPNO
2002./03.	332	178	136	123	88	78	45	33	1013
2003./04.	309	220	150	131	122	52	32	32	1048
2004./05.	263	245	185	136	148	72	43	22	1114
2005./06.	274	209	209	162	148	89	53	36	1180
2006./07.	279	239	178	197	188	97	74	46	1295
2007./08.	314	225	237	163	198	128	77	50	1392
2008./09.	282	253	206	216	207	143	72	49	1428



# 6. razred

rezultati inicijalne provjere čitalačke pismenosti

# Rezultat inicijalnog ispitivanja – 6. razred

## KNJIŽEVNI TEKST

Ferenc Molnar  
Junaci Pavlove ulice

### 1. Dječaci su se igrali na grundu. Što je grund? (1 bod)

83% ispitanika (10 od 12) točno je odgovorilo na pitanje.

[Više pojedinosti](#)



- Livada na kojoj su se dječaci i... 2
- Šuma u kojoj su provodili vrije... 0
- Ravno zemljište i skladište drv... 10 ✓
- Dječje igralište s puno dječjih i... 0



### 2. Koja je igra dječacima bila najdraža? (1 bod)

92% ispitanika (11 od 12) točno je odgovorilo na pitanje.

[Više pojedinosti](#)



- Najčešće su igrali nogomet. 0
- Igrali su se skrivača pokraj veli... 1
- Uživali su se spuštati s toboga... 0
- Igrali su se vojnika kako bi se ... 11 ✓



# Rezultat inicijalnog ispitivanja – 6. razred

## KNJIŽEVNI TEKST

Ferenc Molnar  
Junaci Pavlove ulice

3. **Ako je navedena tvrdnja točna, klikni na riječ DA, ako je netočna, klikni na riječ NE.**  
(6 bodovi)

[Više pojedinosti](#)

■ DA ■ NE

Boka je bio zapovjednik i o svemu je odlučivao.

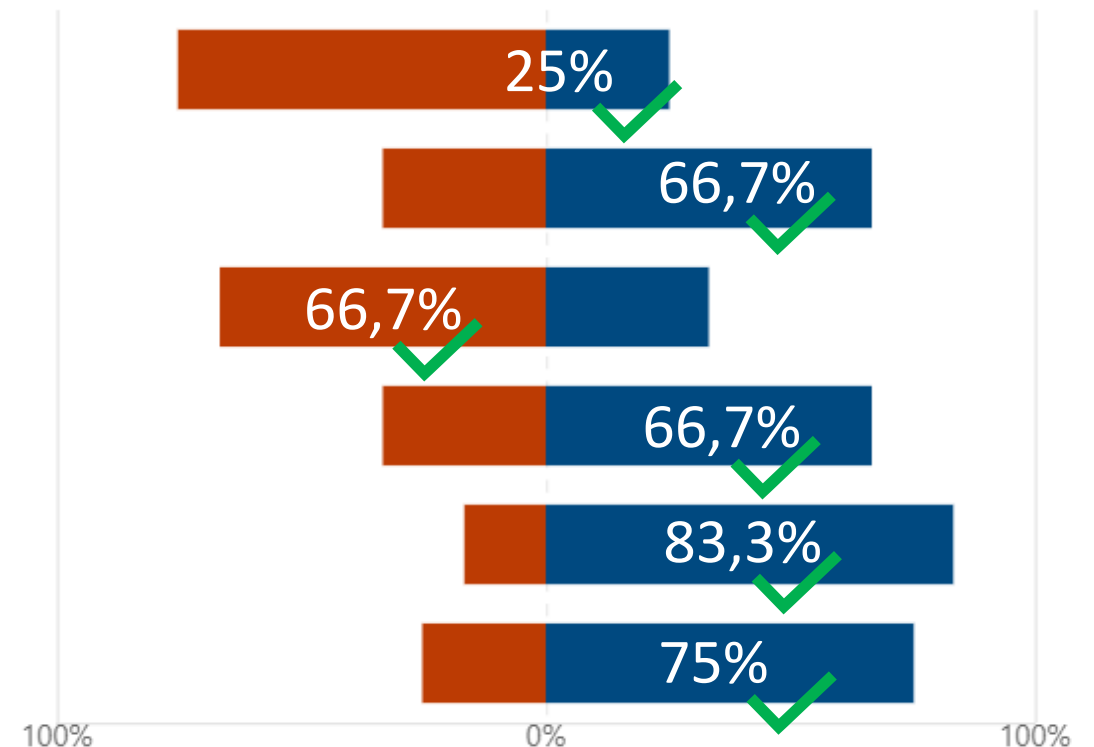
Na grundu je bilo najviše običnih vojnika.

Dječaci su kažnjavali vojnike radi kojekakvih prijestupa.

Grund se nalazio na kraju duge seoske ulice.

Tvrđavu su izgradili Boka i Čonakoš.

Nemeček je imao viši vojnički čin.



# Rezultat inicijalnog ispitivanja – 6. razred

## KNJIŽEVNI TEKST

Ferenc Molnar  
Junaci Pavlove ulice

4. **Većina dječaka voli zapovijedati. Je li Nemeček bio kao većina dječaka? Odgovori cjelovitom rečenicom i svoj odgovor potkrijepi navođenjem dviju rečenica iz teksta.**

Broj učenika koji je u potpunosti odgovorio na pitanje:	4	33%
Cjelovita rečenica bez navoda iz teksta ili s pogrešnim navodom iz teksta ili samo navod bez cjelovite rečenice	8	67%
Necjelovita rečenica, bez odgovora ili pogrešan odgovor:	0	0

# Rezultat inicijalnog ispitivanja – 6. razred

## NEKNJIŽEVNI TEKST

### članak Tolerancija gradi bolje društvo

#### 5. Što je glavna tema članka *Tolerancija gradi bolje društvo*? (1 bod)

42% ispitanika (5 od 12) točno je odgovorilo na pitanje.

[Više pojedinosti](#)

Insights

- Naš susret s netolerantnim lju... 0
- Problem zapošljavanja Roma. 0
- Važnost tolerancije prema Ro... 5 ✓
- Ravnodušnost i svakodnevno ... 7



#### 6. Koji je cilj pročitana članka? (1 bod)

75% ispitanika (9 od 12) točno je odgovorilo na pitanje.

[Više pojedinosti](#)

- Stvaranje boljih uvjeta života ... 0
- Priznanje Roma ravnopravnim... 9 ✓
- Deklaracija o načelima toleran... 3
- Omalovažavanje nacionalnih ... 0



# Rezultat inicijalnog ispitivanja – 6. razred

## NEKNJIŽEVNI TEKST

### članak Tolerancija gradi bolje društvo

#### 7. Jesu li rečenice iz ovog teksta, po tvom mišljenju, činjenice ili mišljenja? (4 bodovi)

[Više pojedinosti](#)

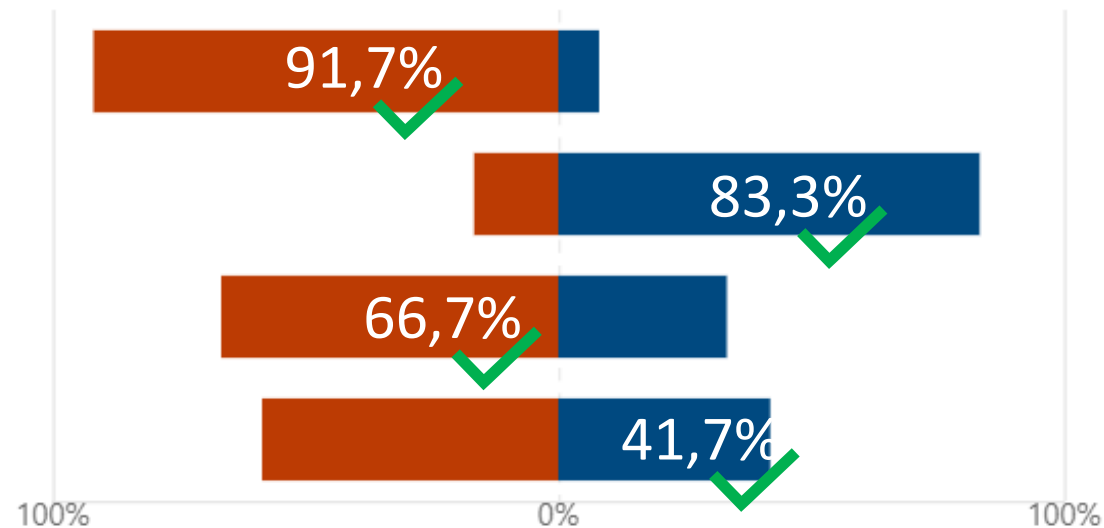
■ činjenica ■ mišljenje

Tolerancija je poštovanje, prihvaćanje i uvažavanje bogatstva različitosti kultura našeg svijeta.

Ljudi još uvijek ne znaju tolerirati suprotne stavove, iako je to sjajna prilika za dijalog i razmjenu mišljenja.

Romima su ograničavana prava i smatrani su ljudima koji nisu prihvaćeni u društvu.

Tolerancija će nas voditi do mira, ispunjenja i bržeg razvoja ako se je svakodnevno držimo.





# Rezultat inicijalnog ispitivanja – 6. razred

## NEKNJIŽEVNI TEKST

članak  
Tolerancija gradi bolje  
društvo

- 8 Što bi, prema tvom mišljenju, uključivanje Roma u sve aktivnosti u društvu donijelo većinskom stanovništvu?

Obrazloži svoj odgovor. Potkrijepi ga barem jednom informacijom iz teksta.

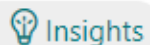
Broj učenika koji je u potpunosti odgovorio na pitanje:	9	75%
Cjelovita rečenica bez navoda iz teksta ili s pogrešnim navodom iz teksta ili samo navod bez cjelovite rečenice	3	25%
Necjelovita rečenica, bez odgovora ili pogrešan odgovor:	0	0

# Rezultat inicijalnog ispitivanja – 6. razred

## 9. Koliko je bilo učenika Roma u 8. razredu 2008./2009. godine? (1 bod)

83% ispitanika (10 od 12) točno je odgovorilo na pitanje.

[Više pojedinosti](#)

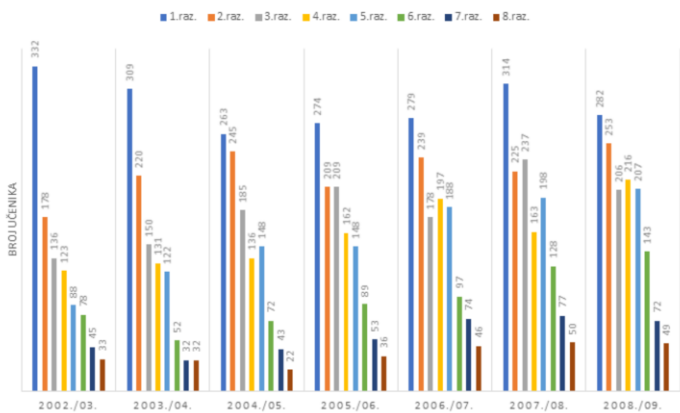


50	2
49	10 ✓
46	0
36	0



## TABLIČNI I GRAFIČKI PRIKAZI

BROJA UČENIKA ROMA U OSNOVNIM ŠKOLAMA MEĐIMURSKE ŽUPANIJE OD ŠK. GOD. 2002./03. DO 2008./09.

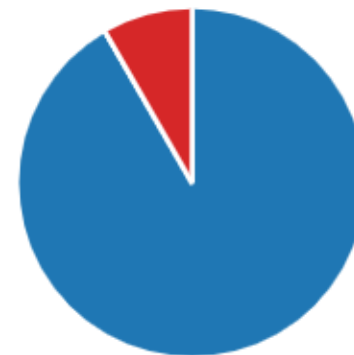


## 10. Koje je godine najviše učenika Roma krenulo u prvi razred osnovne škole? (1 bod)

92% ispitanika (11 od 12) točno je odgovorilo na pitanje.

[Više pojedinosti](#)

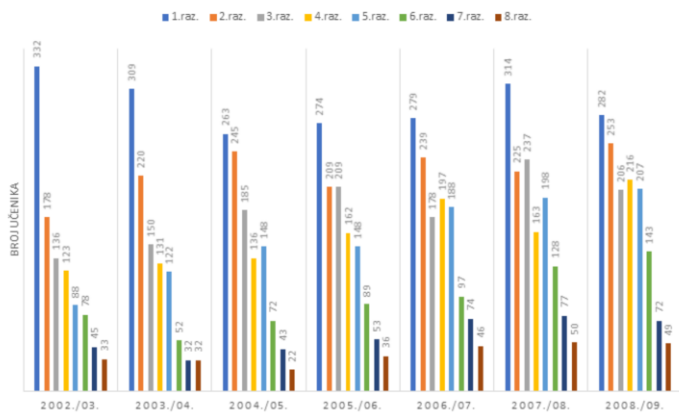
2002./2003.	11 ✓
2003./2004.	0
2007./2008.	0
2008./2009.	1



# Rezultat inicijalnog ispitivanja – 6. razred

## TABLIČNI I GRAFIČKI PRIKAZI

BROJA UČENIKA ROMA U OSNOVNIM ŠKOLAMA  
MEĐIMURSKJE ŽUPANIJE OD ŠK. GOD. 2002./03. DO  
2008./09.

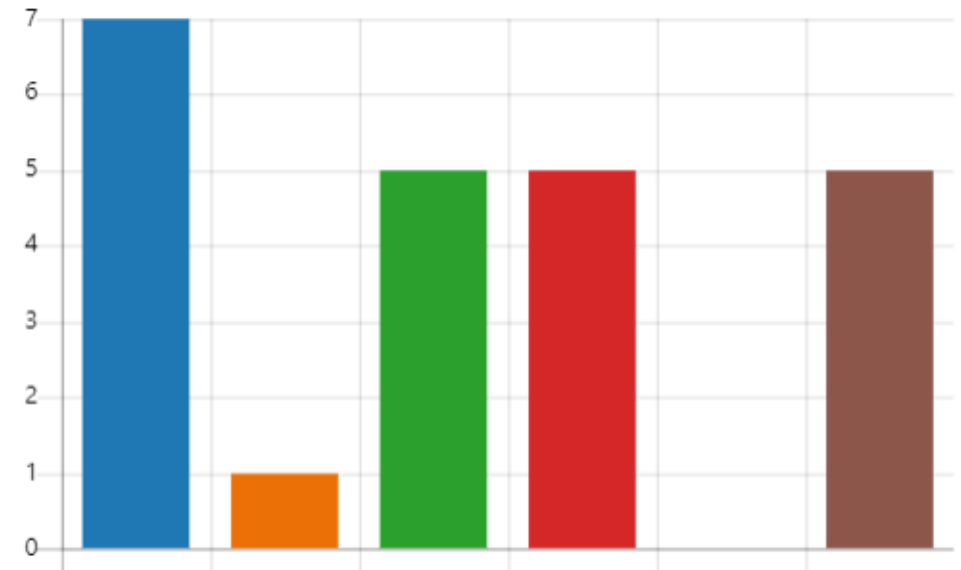


11. U kojim razredima je vidljiv stalan rast broja učenika (osim jedne godine)? (2 bodovi)

17% ispitanika (2 od 12) točno je odgovorilo na pitanje.

[Više pojedinosti](#)

- U 2. razredima 7
- U 3. razredima 1
- U 5. razredima 5 ✓
- U 6. razredima 5 ✓
- U 7. razredima 0
- U 8. razredima 5



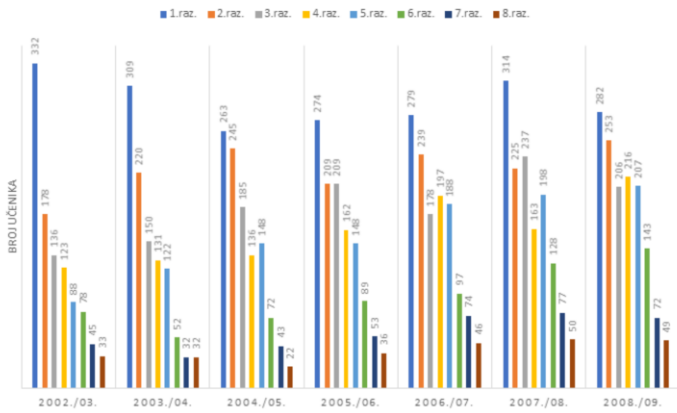
# Rezultat inicijalnog ispitivanja – 6. razred

## TABLIČNI I GRAFIČKI PRIKAZI

12 U kojim godinama i u kojem razredu nije došlo do promjene tj. ponavlja se isti broj učenika?

Napiši odgovor cjelovitom rečenicom.

BROJA UČENIKA ROMA U OSNOVNIM ŠKOLAMA  
MEĐIMURSKJE ŽUPANIJE OD ŠK. GOD. 2002./03. DO  
2008./09.



Broj učenika koji je u potpunosti odgovorio na pitanje:

1

8,3%

Cjelovita rečenica bez navoda iz teksta ili s pogrešnim navodom iz teksta ili samo navod bez cjelovite rečenice

0

0

Necjelovita rečenica, bez odgovora ili pogrešan odgovor:

11

91,7%

# Rezultat inicijalnog ispitivanja – 6. razred

PLAKAT

## MIR. MIR. MIR. NIŠKO NIJE KRIV...

Posjetite besplatne **kreativne radionice za djecu i roditelje** u parku Zrinjevac, koji na Svjetski dan mira postaje Park tolerancije, u organizaciji Centra za promicanje tolerancije i očuvanje sjećanja na holokaust te Vijeća Gradske četvrti Donji grad.

**Zrinjevac, petak 21.9.2018. od 15 do 18 sati**

Organizator:

CENTAR  
TOLERANCIJE  
ZAGREB

Partner:

VUČE  
GRADSKÉ ČETVRTI  
DONJI GRAD

Medijski  
pokrovitelj:

24  
SATI



# Rezultat inicijalnog ispitivanja – 6. razred

PLAKAT


Posjetite besplatne **kreativne radionice za djecu i roditelje** u parku Zrinjevac, koji na Svjetski dan mira postaje Park tolerancije, u organizaciji Centra za promicanje tolerancije i očuvanje sjećanja na holokaust te Vijeća Gradske četvrti Donji grad.





**Zrinjevac, petak 21.9.2018. od 15 do 18 sati**

13. **Što je bila glavna tema kreativnih radionica? (označi JEDAN točan odgovor)** (1 bod)

17% ispitanika (2 od 12) točno je odgovorilo na pitanje.

[Više pojedinosti](#)

 Insights

- |  |   |   |
|--|---|---|
|  Druženje djece i roditelja.        | 6 |   |
|  Promicanje tolerancije i očuva... | 2 | ✓ |
|  Uređivanje parka Zrinjevac.      | 0 |   |
|  Obilježavanje Svjetskog dana ... | 4 |   |



# Rezultat inicijalnog ispitivanja – 6. razred

PLAKAT

Posjetite besplatne **kreativne radionice za djecu i roditelje** u parku Zrinjevac, koji na Svjetski dan mira postaje Park tolerancije, u organizaciji Centra za promicanje tolerancije i očuvanje sjećanja na holokaust te Vijeća Gradske četvrti Donji grad.

**Zrinjevac, petak 21.9.2018. od 15 do 18 sati**

14. **Potraži na plakatu sljedeće podatke i napiši odgovor.**  
**Mjesto održavanja radionica?**

91,67 % ispitanika (11 od 12) točno je odgovorilo na pitanje.

# Rezultat inicijalnog ispitivanja – 6. razred

PLAKAT

Posjetite besplatne  **kreativne radionice za djecu i roditelje**  u parku Zrinjevac, koji na Svjetski dan mira postaje Park tolerancije, u organizaciji Centra za promicanje tolerancije i očuvanje sjećanja na holokaust te Vijeća Gradske četvrti Donji grad.

**Zrinjevac, petak 21.9.2018. od 15 do 18 sati**

15. **Potraži na plakatu sljedeće podatke i napiši odgovor.**  
**Dan održavanja? (1 bod)**

100 % ispitanika (12 od 12) točno je odgovorilo na pitanje.



# Rezultat inicijalnog ispitivanja – 6. razred

PLAKAT

Posjetite besplatne **kreativne radionice za djecu i roditelje** u parku Zrinjevac, koji na Svjetski dan mira postaje Park tolerancije, u organizaciji Centra za promicanje tolerancije i očuvanje sjećanja na holokaust te Vijeća Gradske četvrti Donji grad.

**Zrinjevac, petak 21.9.2018. od 15 do 18 sati**

16. **Potraži na plakatu sljedeće podatke i napiši odgovor.**  
**Vrijeme održavanja? (1 bod)**

100 % ispitanika (12 od 12) točno je odgovorilo na pitanje.

# Rezultat inicijalnog ispitivanja – 6. razred

PLAKAT

Posjetite besplatne **kreativne radionice za djecu i roditelje** u parku Zrinjevac, koji na Svjetski dan mira postaje Park tolerancije, u organizaciji Centra za promicanje tolerancije i očuvanje sjećanja na holokaust te Vijeća Gradske četvrti Donji grad.

**Zrinjevac, petak 21.9.2018. od 15 do 18 sati**

17. **Potraži na plakatu sljedeće podatke i napiši odgovor.**  
**Organizator događaja? (1 bod)**

83,33 % ispitanika (10 od 12) točno je odgovorilo na pitanje.

# Rezultat inicijalnog ispitivanja – 6. razred

PLAKAT

Posjetite besplatne **kreativne radionice za djecu i roditelje** u parku Zrinjevac, koji na Svjetski dan mira postaje Park tolerancije, u organizaciji Centra za promicanje tolerancije i očuvanje sjećanja na holokaust te Vijeća Gradske četvrti Donji grad.

**Zrinjevac, petak 21.9.2018. od 15 do 18 sati**

18. Pročitaj tvrdnje i na temelju podataka sa plakata odredi jesu li točne ili netočne.  
(4 bodovi)

[Više pojedinosti](#)

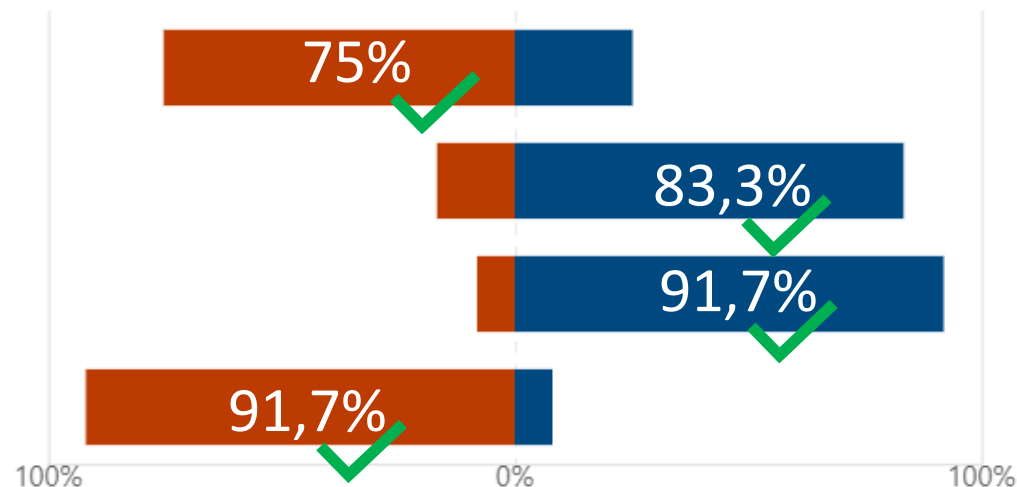
■ TOČNO ■ NETOČNO

Organizator je bio Centar tolerancije Zagreb.

Radionice su se naplaćivale.

Radionice su trajale cijeli dan.

Park Zrinjevac postao je Park tolerancije.



# Rezultat inicijalnog ispitivanja – 6. razred

PLAKAT

Posjetite besplatne **kreativne radionice za djecu i roditelje** u parku Zrinjevac, koji na Svjetski dan mira postaje Park tolerancije, u organizaciji Centra za promicanje tolerancije i očuvanje sjećanja na holokaust te Vijeća Gradske četvrti Donji grad.

**Zrinjevac, petak 21.9.2018. od 15 do 18 sati**

19. **Povodom čega su organizirane kreativne radionice?**  
**Odgovori cjelovitom rečenicom. (2 bodovi)**

Broj učenika koji je u potpunosti odgovorio na pitanje:	7	58,33 %
Necjelovita rečenica, bez odgovora ili pogrešan odgovor:	5	41,67 %

# 7. razred

rezultati inicijalne provjere čitalačke pismenosti

# Rezultat inicijalnog ispitivanja – 7. razred

## KNJIŽEVNI TEKST

John Boyne  
Dječak u prugastoj  
pidžami

### 1. Zašto se Bruno manje bojava od svog prijatelja Shmuela? (1 bod)

89% ispitanika (16 od 18) točno je odgovorilo na pitanje.

[Više pojedinosti](#) 💡 Insights

- Jer je bio siguran da se u logor... 0
- Vjerovao je da se radi o igri. 0
- Smatrao je da mu se ništa ne ... 2
- Bio je uvjeren da je sve u redu... 16 ✓



### 2. S kojom je namjerom Bruno ušao u logor? (1 bod)

72% ispitanika (13 od 18) točno je odgovorilo na pitanje.

[Više pojedinosti](#) 💡 Insights

- Želio se igrati s prijateljem. 3
- Zanimalo ga je kako se živi u l... 1
- Zato što je želio ispuniti obeća... 13 ✓
- Bilo mu je dosadno i želio je u... 1



# Rezultat inicijalnog ispitivanja – 7. razred

## KNJIŽEVNI TEKST

John Boyne  
Dječak u prugastoj  
pidžami

3. **Ako je navedena tvrdnja točna, klikni na riječ DA, ako je netočna, klikni na riječ NE.**  
(6 bodovi)

[Više pojedinosti](#)

■ DA ■ NE

Shmuel je doveden u logor jer je Židov.

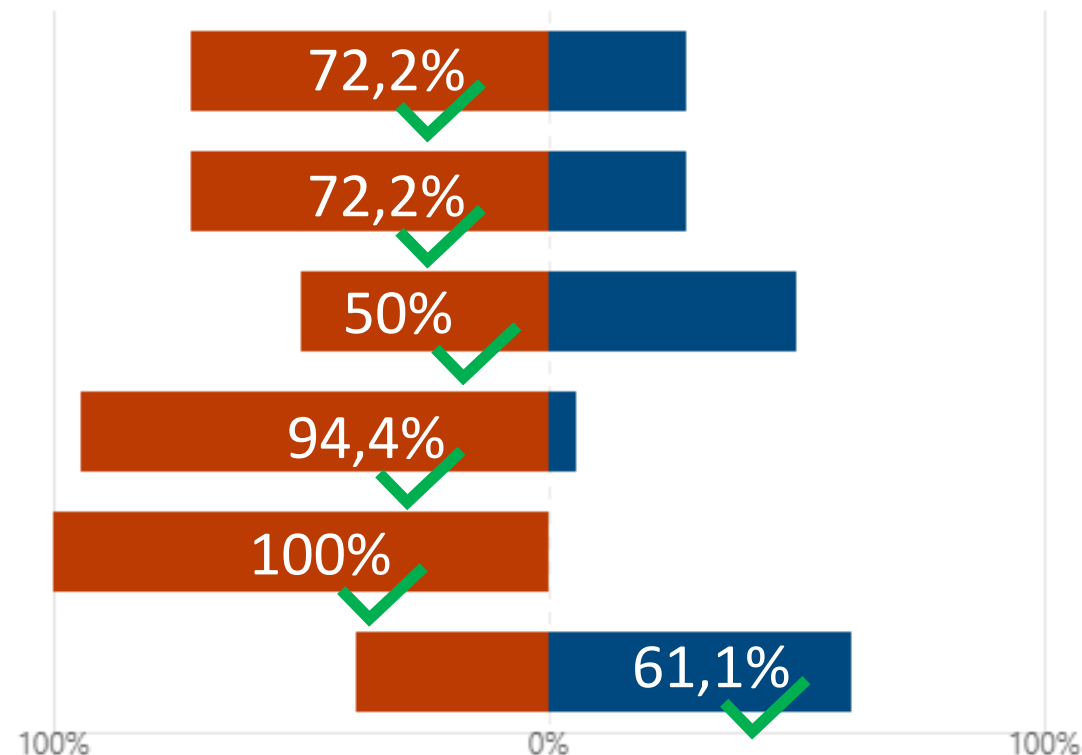
Dječaci su bili mokri jer je padala kiša.

Shmuel nije očekivao da će pronaći svog oca.

Bruno priželjkuje da ga Shmuel posjeti u Berlinu.

Bruni nije bilo važno što je Shmuel židovski, a ne njemački dječak.

Bruno je stigao kući na večeru.



# Rezultat inicijalnog ispitivanja – 7. razred

## KNJIŽEVNI TEKST

John Boyne  
Dječak u prugastoj  
pidžami

4. Bruno i Shmuel postali su jako dobri prijatelji unatoč tome što ne pripadaju istom narodu. Žive li ti dječaci u doba mira ili u ratno doba? Odgovori cjelovitom rečenicom i svoj odgovor potkrijepi navođenjem dviju rečenica iz teksta.

Broj učenika koji je u potpunosti odgovorio na pitanje:	11	61,11 %
Cjelovita rečenica bez navoda iz teksta ili s pogrešnim navodom iz teksta:	6	33,33 %
Necjelovita rečenica, bez odgovora ili pogrešan odgovor:	1	5,55 %



# Rezultat inicijalnog ispitivanja – 7. razred

## NEKNJIŽEVNI TEKST

### članak Školovanje i zapošljavanje Roma

#### 5. Što je bila glavna tema konferencije na kojoj se govorilo i o inovativnim metodama uključivanja mladih Romkinja i Roma u društvo? (1 bod)

78% ispitanika (14 od 18) točno je odgovorilo na pitanje.

[Više pojedinosti](#)  Insights

- Suradnja Roma s većinskim st... 0
- Osnovnoškolsko obrazovanje ... 1
- Načini poticanja mladih Roma... 14 ✓
- Zapošljavanje Roma u školam... 3



#### 6. Pročitaj govor Romkinja i Roma u tekstu i odgovori na pitanje: Za koji se isti cilj zalažu tri sugovornika u ovom tekstu? (1 bod)

83% ispitanika (15 od 18) točno je odgovorilo na pitanje.

[Više pojedinosti](#)  Insights

- Za stvaranje boljih uvjeta život... 2
- Za nastavak obrazovanja Rom... 15 ✓
- Za veću uključenost Roma u d... 0
- Za izgradnju učeničkih domov... 1

...vak obrazovanja Roma nakon osnovne i srednje škole :



# Rezultat inicijalnog ispitivanja – 7. razred

## NEKNJIŽEVNI TEKST

### članak Školovanje i zapošljavanje Roma

#### 7. Jesu li rečenice iz ovog teksta, po tvom mišljenju, činjenice ili mišljenja? (4 bodovi)

[Više pojedinosti](#)

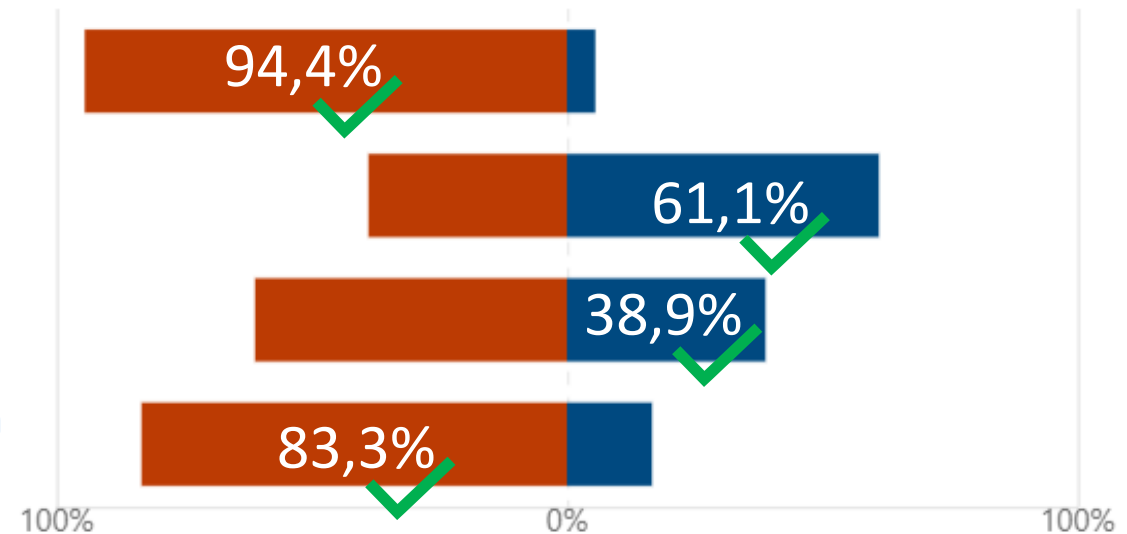
■ činjenica ■ mišljenje

Čak 70% pripadnika romske nacionalne manjine ne završi srednju školu.

Uz mentoricu sam se mogla oblikovati, također sam osnažila svoju volju za suočavanjem i rješavanjem...

Programi prakse i potpore iznimno su važni.

Prema zadnjim istraživanjima svega je 30% pripadnika romske nacionalne manjine u dobi od 15 do 18...



# Rezultat inicijalnog ispitivanja – 7. razred

## NEKNJIŽEVNI TEKST

### članak Školovanje i zapošljavanje Roma

- 8 Što bi, prema tvome mišljenju, moglo pomoći u poticanju romskih učenika za nastavak obrazovanja nakon osnovne škole?

Potkrijepi svoj odgovor barem dvjema informacijama iz teksta:

Broj učenika koji je u potpunosti odgovorio na pitanje:	9	50 %
Cjelovita rečenica bez navoda iz teksta ili s pogrešnim navodom iz teksta:	8	44,44 %
Necjelovita rečenica, bez odgovora ili pogrešan odgovor:	1	5,55 %

# Rezultat inicijalnog ispitivanja – 7. razred

## TABLIČNI I GRAFIČKI PRIKAZI

Popis stanovništva 2001.	Ukupno	Hrvati	Nacionalne manjine <sup>1)</sup>				Ostali
			svega	Romi	Slovenci	Srbi	
<b>Međimurska županija</b>	<b>118.426</b>	<b>112.746</b>	<b>4.272</b>	<b>2.887</b>	<b>522</b>	<b>248</b>	<b>615</b>
Grad Čakovec	30.455	28.435	1.625	1.105	120	144	256
Grad Mursko Središće	6.548	6.260	139	7	83	7	42
Grad Prelog	7.871	7.738	58	0	11	11	36
<b>Općine - zbirno</b>	<b>73.552</b>	<b>70.313</b>	<b>2.450</b>	<b>1.775</b>	<b>308</b>	<b>86</b>	<b>281</b>

Popis stanovništva 2011.	Ukupno	Hrvati	Nacionalne manjine <sup>1)</sup>				Ostali
			svega	Romi	Slovenci	Srbi	
<b>Međimurska županija</b>	<b>113.804</b>	<b>106.744</b>	<b>7.060</b>	<b>5.107</b>	<b>516</b>	<b>249</b>	<b>1.188</b>
Grad Čakovec	27.104	25.410	1.694	1.039	80	136	439
Grad Mursko Središće	6.307	5.870	437	285	63	9	80
Grad Prelog	7.815	7.691	124	0	24	10	90
<b>Općine - zbirno</b>	<b>72.578</b>	<b>67.773</b>	<b>4.805</b>	<b>3.783</b>	<b>349</b>	<b>94</b>	<b>579</b>

### 9. Broj stanovnika Međimurja 2011. godine je (označi JEDAN točan odgovor): (1 bod)

89% ispitanika (16 od 18) točno je odgovorilo na pitanje.

[Više pojedinosti](#)  Insights

- jednak kao i 2001. godine 0
- veći nego 2001. godine 2
- manji nego 2001. godine 16 ✓

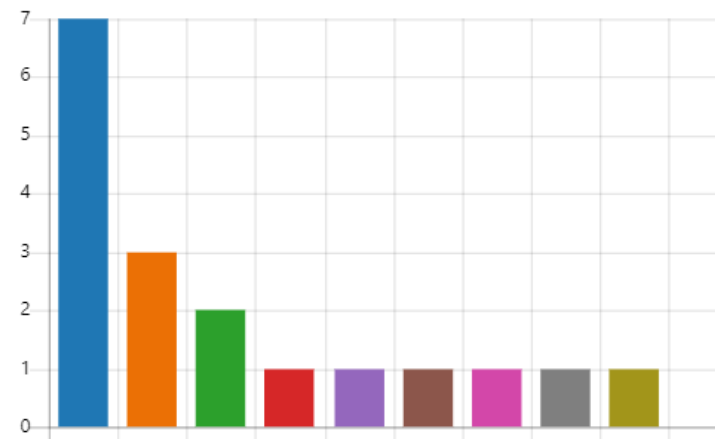


### 10. Koliko stanovnika je ukupno živjelo u Međimurju 2001. godine? (1 bod)

39% ispitanika (7 od 18) točno je odgovorilo na pitanje.

[Više pojedinosti](#)

- 118.426 7 ✓
- 118.804 3
- oko 44,000 2
- 118.426 stanovnika 1
- 118.426 tisuća 1
- 118.426. 1
- U Međimurju je živjelo 118.42... 1
- Ukupno je živjelo 73.552 1
- živjelo je 118,426 stanovnika. 1
- broj ostalih mogućnosti: 0 0



# Rezultat inicijalnog ispitivanja – 7. razred

## TABLIČNI I GRAFIČKI PRIKAZI

Popis stanovništva 2001.	Ukupno	Hrvati	Nacionalne manjine <sup>1)</sup>				Ostali
			svega	Romi	Slovenci	Srbi	
<b>Međimurska županija</b>	<b>118.426</b>	<b>112.746</b>	<b>4.272</b>	<b>2.887</b>	<b>522</b>	<b>248</b>	<b>615</b>
Grad Čakovec	30.455	28.435	1.625	1.105	120	144	256
Grad Mursko Središće	6.548	6.260	139	7	83	7	42
Grad Prelog	7.871	7.738	58	0	11	11	36
<b>Općine - zbirno</b>	<b>73.552</b>	<b>70.313</b>	<b>2.450</b>	<b>1.775</b>	<b>308</b>	<b>86</b>	<b>281</b>

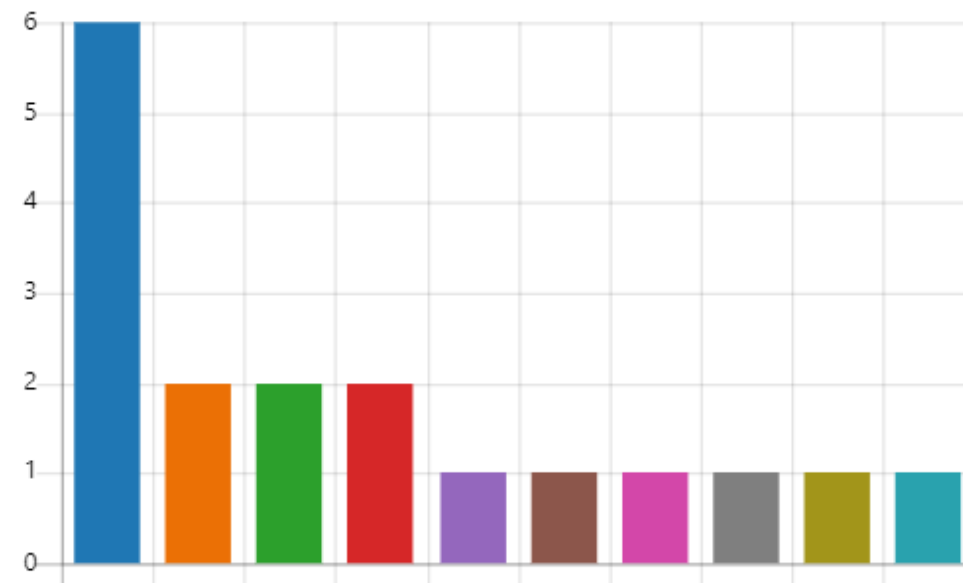
Popis stanovništva 2011.	Ukupno	Hrvati	Nacionalne manjine <sup>1)</sup>				Ostali
			svega	Romi	Slovenci	Srbi	
<b>Međimurska županija</b>	<b>113.804</b>	<b>106.744</b>	<b>7.060</b>	<b>5.107</b>	<b>516</b>	<b>249</b>	<b>1.188</b>
Grad Čakovec	27.104	25.410	1.694	1.039	80	136	439
Grad Mursko Središće	6.307	5.870	437	285	63	9	80
Grad Prelog	7.815	7.691	124	0	24	10	90
<b>Općine - zbirno</b>	<b>72.578</b>	<b>67.773</b>	<b>4.805</b>	<b>3.783</b>	<b>349</b>	<b>94</b>	<b>579</b>

### 11. Koja nacionalna manjina je bila najbrojnija 2011. godine? (1 bod)

33% ispitanika (6 od 18) točno je odgovorilo na pitanje.

[Više pojedinosti](#)

- Romi 6 ✓
- 113.804 2
- svega 2
- answer\_other 2
- manji su bili srbi bilo ih je 249 ... 1
- Najbrojnija nacionalna manjin... 1
- Najbrojnija nacionalna manjin... 1
- najbrojniji su Romi ,a ima ih 5,... 1
- Roma 1
- slovenija 1



# Rezultat inicijalnog ispitivanja – 7. razred

## TABLIČNI I GRAFIČKI PRIKAZI

Popis stanovništva 2001.	Ukupno	Hrvati	Nacionalne manjine <sup>1)</sup>				Ostali
			svega	Romi	Slovenci	Srbi	
<b>Međimurska županija</b>	<b>118.426</b>	<b>112.746</b>	<b>4.272</b>	<b>2.887</b>	<b>522</b>	<b>248</b>	<b>615</b>
Grad Čakovec	30.455	28.435	1.625	1.105	120	144	256
Grad Mursko Središće	6.548	6.260	139	7	83	7	42
Grad Prelog	7.871	7.738	58	0	11	11	36
<b>Općine - zbirno</b>	<b>73.552</b>	<b>70.313</b>	<b>2.450</b>	<b>1.775</b>	<b>308</b>	<b>86</b>	<b>281</b>

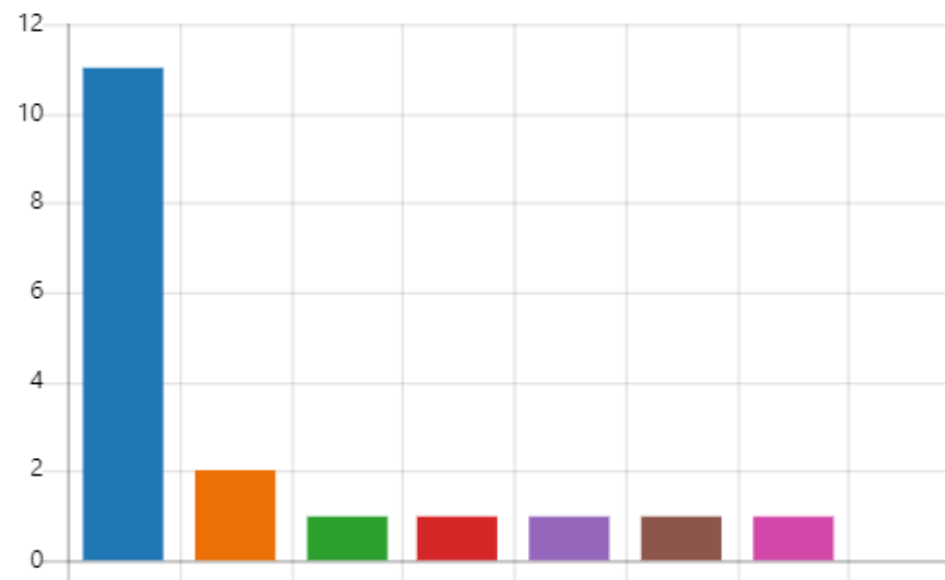
Popis stanovništva 2011.	Ukupno	Hrvati	Nacionalne manjine <sup>1)</sup>				Ostali
			svega	Romi	Slovenci	Srbi	
<b>Međimurska županija</b>	<b>113.804</b>	<b>106.744</b>	<b>7.060</b>	<b>5.107</b>	<b>516</b>	<b>249</b>	<b>1.188</b>
Grad Čakovec	27.104	25.410	1.694	1.039	80	136	439
Grad Mursko Središće	6.307	5.870	437	285	63	9	80
Grad Prelog	7.815	7.691	124	0	24	10	90
<b>Općine - zbirno</b>	<b>72.578</b>	<b>67.773</b>	<b>4.805</b>	<b>3.783</b>	<b>349</b>	<b>94</b>	<b>579</b>

## 12. Koje nacionalne manjine je 2011. godine bilo najmanje u Međimurju? (1 bod)

72% ispitanika (13 od 18) točno je odgovorilo na pitanje.

[Više pojedinosti](#)

- Srbi 11 ✓
- srba 2
- najmanje je bilo srba samo 249 1
- Najmanje je bilo Srba. 1
- Srbi. 1
- U Međimurju je 2011. godine ... 1
- u međimurju je bilo najmanje ... 1
- broj ostalih mogućnosti: 0 0



# Rezultat inicijalnog ispitivanja – 7. razred

## TABLIČNI I GRAFIČKI PRIKAZI

Popis stanovništva 2001.	Ukupno	Hrvati	Nacionalne manjine <sup>1)</sup>				Ostali
			svoga	Romi	Slovenci	Srbi	
<b>Međimurska županija</b>	<b>118.426</b>	<b>112.746</b>	<b>4.272</b>	<b>2.887</b>	<b>522</b>	<b>248</b>	<b>615</b>
Grad Čakovec	30.455	28.435	1.625	1.105	120	144	256
Grad Mursko Središće	6.548	6.260	139	7	83	7	42
Grad Prelog	7.871	7.738	58	0	11	11	36
<b>Općine - zbirno</b>	<b>73.552</b>	<b>70.313</b>	<b>2.450</b>	<b>1.775</b>	<b>308</b>	<b>86</b>	<b>281</b>

Popis stanovništva 2011.	Ukupno	Hrvati	Nacionalne manjine <sup>1)</sup>				Ostali
			svoga	Romi	Slovenci	Srbi	
<b>Međimurska županija</b>	<b>113.804</b>	<b>106.744</b>	<b>7.060</b>	<b>5.107</b>	<b>516</b>	<b>249</b>	<b>1.188</b>
Grad Čakovec	27.104	25.410	1.694	1.039	80	136	439
Grad Mursko Središće	6.307	5.870	437	285	63	9	80
Grad Prelog	7.815	7.691	124	0	24	10	90
<b>Općine - zbirno</b>	<b>72.578</b>	<b>67.773</b>	<b>4.805</b>	<b>3.783</b>	<b>349</b>	<b>94</b>	<b>579</b>

13. Pročitaj tvrdnje i na temelju podataka iz tablice odredi jesu li točne ili netočne.  
(4 bodovi)

[Više pojedinosti](#)

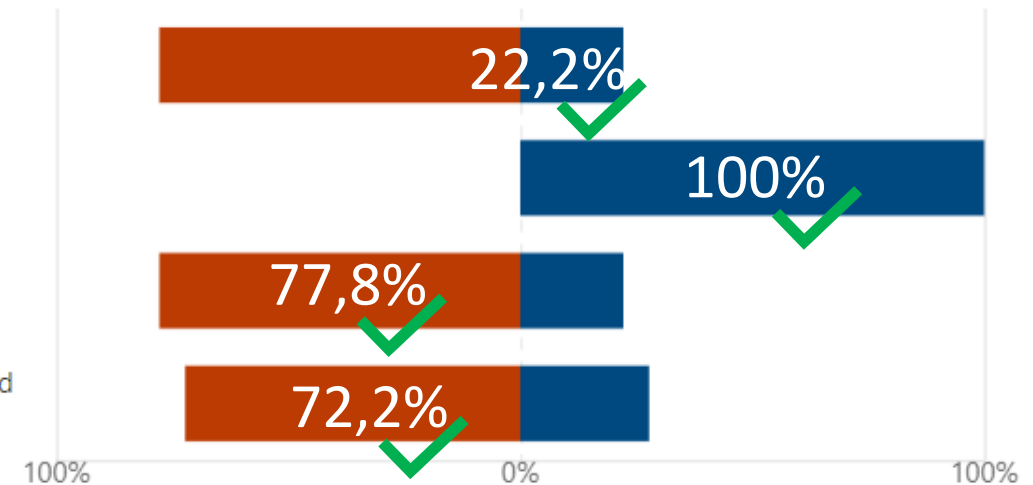
■ točno ■ netočno

U gradovima Međimurja živi više stanovnika nego u međimurskim općinama.

Slovenci su najbrojnija nacionalna manjina u Međimurju.

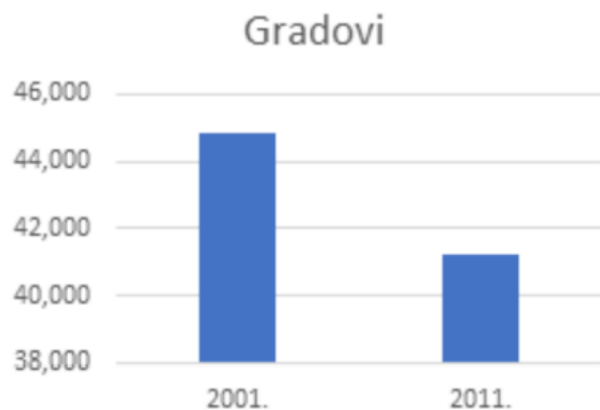
Romi ne žive u gradu Prelogu.

Broj Roma koji žive u gradu Čakovcu se u razdoblju od 2001. do 2011. godine smanjio.



# Rezultat inicijalnog ispitivanja – 7. razred

## TABLIČNI I GRAFIČKI PRIKAZI



14. Na temelju podataka iz tablice, izrađen je grafikon koji pokazuje usporedni odnos broja stanovnika u gradovima 2001. i 2011. godine.

Promotri grafikon i razmisli o istinitosti sljedeće tvrdnje:

„Iz grafikona se vidi da je 2001. godine u gradovima živjelo dvostruko više stanovnika nego 2011. godine.“

Je li ta tvrdnja istinita?

11% ispitanika (2 od 18) točno je odgovorilo na pitanje.

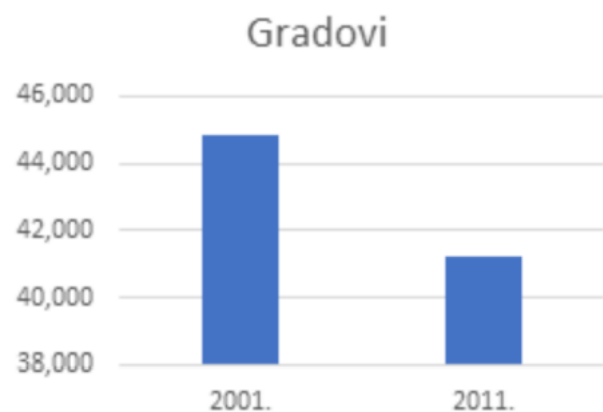
[Više pojedinosti](#)





# Rezultat inicijalnog ispitivanja – 7. razred

## TABLIČNI I GRAFIČKI PRIKAZI



15. „Iz grafikona se vidi da je 2001. godine u gradovima živjelo dvostruko više stanovnika nego 2011. godine.“ Je li ta tvrdnja istinita?

**TOČAN ODGOVOR ('NE') – uglavnom smisleno objašnjenje odgovora**

**NETOČAN ODGOVOR ('DA') – učenici ne objašnjavaju svoj odgovor ili ga ne objašnjavaju smisleno**

1

17

5,55 %

94,44 %

# Rezultat inicijalnog ispitivanja – 7. razred

PLAKAT

## MIR. MIR. MIR. NIŠKO NIJE KRIV...

Posjetite besplatne **kreativne radionice za djecu i roditelje** u parku Zrinjevac, koji na Svjetski dan mira postaje Park tolerancije, u organizaciji Centra za promicanje tolerancije i očuvanje sjećanja na holokaust te Vijeća Gradske četvrti Donji grad.

**Zrinjevac, petak 21.9.2018. od 15 do 18 sati**

Organizator:

CENTAR  
TOLERANCIJE  
ZAGREB

Partner:

VUČE  
GRADSKJE ČETVRTI  
DONJI GRAD

Medijski  
pokrovitelj:

24  
SATI



# Rezultat inicijalnog ispitivanja – 7. razred

PLAKAT

Posjetite besplatne **kreativne radionice za djecu i roditelje** u parku Zrinjevac, koji na Svjetski dan mira postaje Park tolerancije, u organizaciji Centra za promicanje tolerancije i očuvanje sjećanja na holokaust te Vijeća Gradske četvrti Donji grad.





**Zrinjevac, petak 21.9.2018. od 15 do 18 sati**

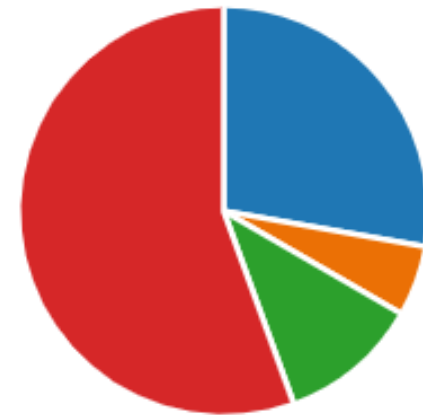
16. **Što je bila glavna tema kreativnih radionica? (označi JEDAN točan odgovor)** (1 bod)

6% ispitanika (1 od 18) točno je odgovorilo na pitanje.

[Više pojedinosti](#)

 Insights

- |  |    |   |
|--|----|---|
|  Druženje djece i roditelja.        | 5  |   |
|  Promicanje tolerancije i očuva...  | 1  | ✓ |
|  Uređivanje parka Zrinjevac.      | 2  |   |
|  Obilježavanje Svjetskog dana ... | 10 |   |



# Rezultat inicijalnog ispitivanja – 7. razred

PLAKAT

Posjetite besplatne **kreativne radionice za djecu i roditelje** u parku Zrinjevac, koji na Svjetski dan mira postaje Park tolerancije, u organizaciji Centra za promicanje tolerancije i očuvanje sjećanja na holokaust te Vijeća Gradske četvrti Donji grad.

**Zrinjevac, petak 21.9.2018. od 15 do 18 sati**

17. **Potraži na plakatu sljedeće podatke i napiši odgovor.**

**Mjesto održavanja radionica?**

(1 bod)

88,89 % ispitanika (16 od 18) točno je odgovorilo na pitanje.

# Rezultat inicijalnog ispitivanja – 7. razred

PLAKAT

Posjetite besplatne **kreativne radionice za djecu i roditelje** u parku Zrinjevac, koji na Svjetski dan mira postaje Park tolerancije, u organizaciji Centra za promicanje tolerancije i očuvanje sjećanja na holokaust te Vijeća Gradske četvrti Donji grad.

**Zrinjevac, petak 21.9.2018. od 15 do 18 sati**

18. **Potraži na plakatu sljedeće podatke i napiši odgovor.**  
**Dan održavanja? (1 bod)**

94,44 % ispitanika (17 od 18) točno je odgovorilo na pitanje.

# Rezultat inicijalnog ispitivanja – 7. razred

PLAKAT

Posjetite besplatne **kreativne radionice za djecu i roditelje** u parku Zrinjevac, koji na Svjetski dan mira postaje Park tolerancije, u organizaciji Centra za promicanje tolerancije i očuvanje sjećanja na holokaust te Vijeća Gradske četvrti Donji grad.

**Zrinjevac, petak 21.9.2018. od 15 do 18 sati**

19. **Potraži na plakatu sljedeće podatke i napiši odgovor.**  
**Vrijeme održavanja? (1 bod)**

100 % ispitanika (18 od 18) točno je odgovorilo na pitanje.

# Rezultat inicijalnog ispitivanja – 7. razred

PLAKAT

Posjetite besplatne **kreativne radionice za djecu i roditelje** u parku Zrinjevac, koji na Svjetski dan mira postaje Park tolerancije, u organizaciji Centra za promicanje tolerancije i očuvanje sjećanja na holokaust te Vijeća Gradske četvrti Donji grad.

**Zrinjevac, petak 21.9.2018. od 15 do 18 sati**

20. **Potraži na plakatu sljedeće podatke i napiši odgovor.**  
**Organizator događaja?** (1 bod)

77,78 % ispitanika (14 od 18) točno je odgovorilo na pitanje.

# Rezultat inicijalnog ispitivanja – 7. razred

PLAKAT

Posjetite besplatne **kreativne radionice za djecu i roditelje** u parku Zrinjevac, koji na Svjetski dan mira postaje Park tolerancije, u organizaciji Centra za promicanje tolerancije i očuvanje sjećanja na holokaust te Vijeća Gradske četvrti Donji grad.

**Zrinjevac, petak 21.9.2018. od 15 do 18 sati**

21. Pročitaj tvrdnje i na temelju podataka sa plakata odredi jesu li točne ili netočne.

(4 bodovi)

[Više pojedinosti](#)

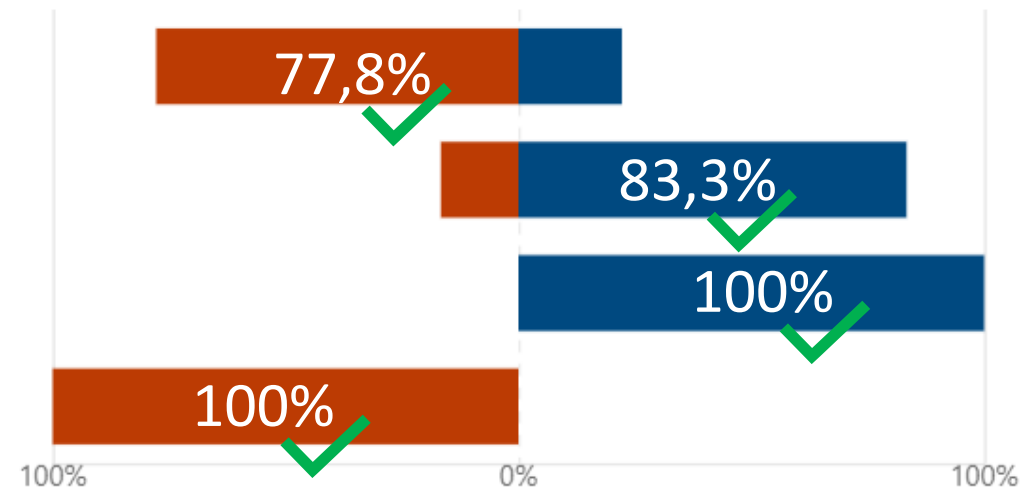
■ točno ■ netočno

Organizator je bio Centar tolerancije Zagreb.

Radionice su se naplaćivale.

Radionice su trajale cijeli dan.

Park Zrinjevac postao je Park tolerancije.





# Rezultat inicijalnog ispitivanja – 7. razred

PLAKAT

Posjetite besplatne **kreativne radionice za djecu i roditelje** u parku Zrinjevac, koji na Svjetski dan mira postaje Park tolerancije, u organizaciji Centra za promicanje tolerancije i očuvanje sjećanja na holokaust te Vijeća Gradske četvrti Donji grad.

**Zrinjevac, petak 21.9.2018. od 15 do 18 sati**

22. **Povodom čega su organizirane kreativne radionice?**

Odgovori dvjema cjelovitim rečenicama. (2 bodovi)

Broj učenika koji je u potpunosti odgovorio na pitanje:	11	61,11 %
Necjelovita rečenica, bez odgovora ili pogrešan odgovor:	7	38,89 %

# 8. razred

rezultati inicijalne provjere čitalačke pismenosti

# Rezultat inicijalnog ispitivanja – 8. razred

## KNJIŽEVNI TEKST

John Boyne  
Dječak u prugastoj  
pidžami

### 1. Zašto se Bruno manje bojao od svog prijatelja Shmuela? (1 bod)

93% ispitanika (25 od 27) točno je odgovorilo na pitanje.

[Više pojedinosti](#) 💡 Insights

- Jer je bio siguran da se u logo... 0
- Vjerovao je da se radi o igri. 1
- Smatrao je da mu se ništa ne ... 1
- Bio je uvjeren da je sve u redu... 25 ✓



### 2. S kojom je namjerom Bruno ušao u logor? (1 bod)

74% ispitanika (20 od 27) točno je odgovorilo na pitanje.

[Više pojedinosti](#) 💡 Insights

- Želio se igrati s prijateljem. 1
- Zanimalo ga je kako se živi u l... 5
- Zato što je želio ispuniti obeća... 20 ✓
- Bilo mu je dosadno i želio je u... 1



# Rezultat inicijalnog ispitivanja – 8. razred

## KNJIŽEVNI TEKST

John Boyne  
Dječak u prugastoj  
pidžami

3. Ako je navedena tvrdnja točna, klikni na riječ DA, ako je netočna, klikni na riječ NE.  
(6 bodovi)

[Više pojedinosti](#)

■ DA ■ NE

Shmuel je doveden u logor jer je Židov.

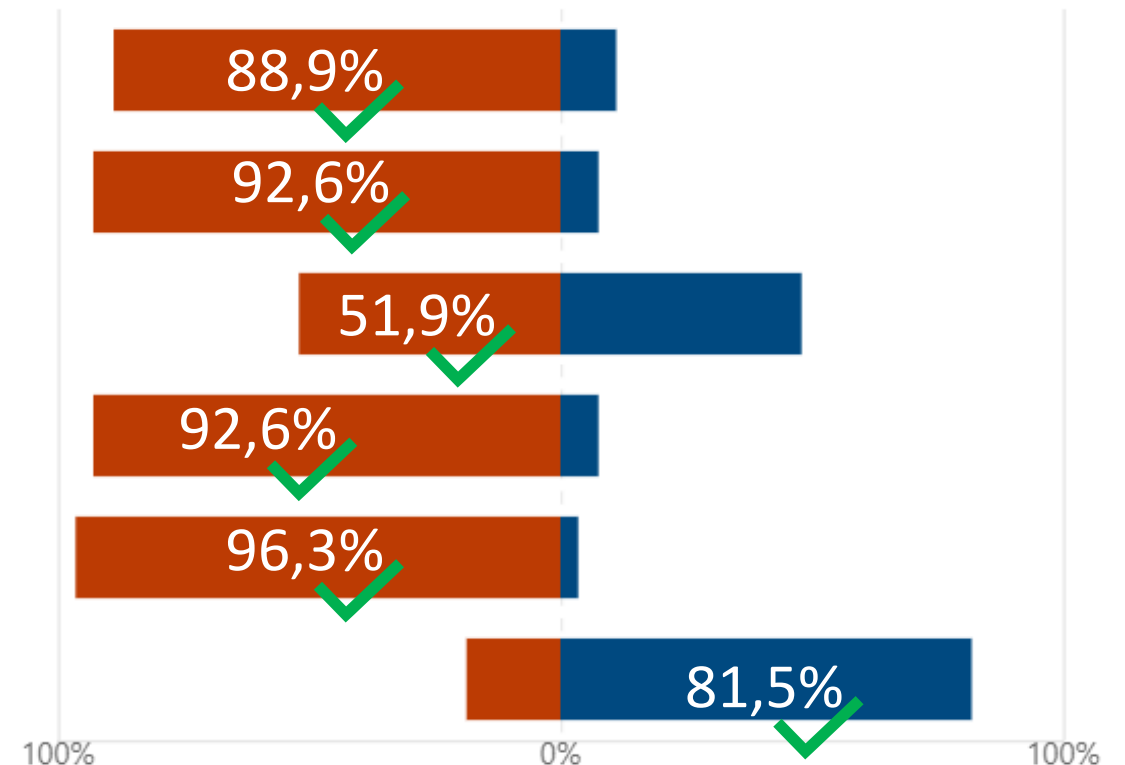
Dječaci su bili mokri jer je padala kiša.

Shmuel nije očekivao da će pronaći svog oca.

Bruno priželjkuje da ga Shmuel posjeti u Berlinu.

Bruni nije bilo važno što je Shmuel židovski, a ne njemački dječak.

Bruno je stigao kući na večeru.



# Rezultat inicijalnog ispitivanja – 8. razred

## KNJIŽEVNI TEKST

John Boyne  
Dječak u prugastoj  
pidžami

4. Bruno i Shmuel postali su jako dobri prijatelji unatoč tome što ne pripadaju istom narodu. Žive li ti dječaci u doba mira ili u ratno doba? Odgovori cjelovitom rečenicom i svoj odgovor potkrijepi navođenjem dviju rečenica iz teksta.

Broj učenika koji je u potpunosti odgovorio na pitanje:	22	81,48 %
Cjelovita rečenica bez navoda iz teksta ili s pogrešnim navodom iz teksta:	4	14,81 %
Necjelovita rečenica, bez odgovora ili pogrešan odgovor:	1	3,7 %

# Rezultat inicijalnog ispitivanja – 8. razred

## NEKNJIŽEVNI TEKST

### članak Školovanje i zapošljavanje Roma

5. Što je bila glavna tema konferencije na kojoj se govorilo i o inovativnim metodama uključivanja mladih Romkinja i Roma u društvo? (1 bod)

96% ispitanika (26 od 27) točno je odgovorilo na pitanje.

[Više pojedinosti](#)

- Suradnja Roma s većinskim st... 0
- Osnovnoškolsko obrazovanje ... 1
- Načini poticanja mladih Roma... 26 ✓
- Zapošljavanje Roma u školam... 0



6. Pročitaj govor Romkinja i Roma u tekstu i odgovori na pitanje: Za koji se isti cilj zalažu tri sugovornika u ovom tekstu? (1 bod)

89% ispitanika (24 od 27) točno je odgovorilo na pitanje.

[Više pojedinosti](#)

Insights

- Za stvaranje boljih uvjeta život... 1
- Za nastavak obrazovanja Rom... 24 ✓
- Za veću uključenost Roma u d... 2
- Za izgradnju učeničkih domov... 0



# Rezultat inicijalnog ispitivanja – 8. razred

## NEKNJIŽEVNI TEKST

### članak Školovanje i zapošljavanje Roma

#### 7. Jesu li rečenice iz ovog teksta, po tvom mišljenju, činjenice ili mišljenja? (4 bodovi)

[Više pojedinosti](#)

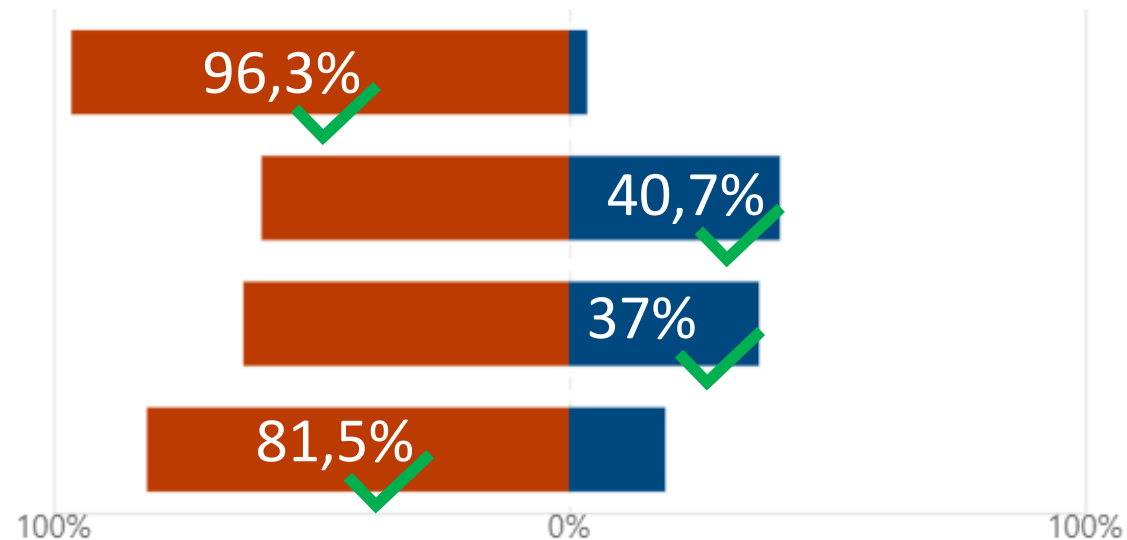
■ činjenica ■ mišljenje

Čak 70% pripadnika romske nacionalne manjine ne završi srednju školu.

Uz mentoricu sam se mogla oblikovati, također sam osnažila svoju volju za suočavanjem i rješavanjem...

Programi prakse i potpore iznimno su važni.

Prema zadnjim istraživanjima svega je 30% pripadnika romske nacionalne manjine u dobi od 15 do 18...



# Rezultat inicijalnog ispitivanja – 8. razred

## NEKNJIŽEVNI TEKST

### članak Školovanje i zapošljavanje Roma

- 8 Što bi, prema tvome mišljenju, moglo pomoći u poticanju romskih učenika za nastavak obrazovanja nakon osnovne škole?

Potkrijepi svoj odgovor barem dvjema informacijama iz teksta:

Broj učenika koji je u potpunosti odgovorio na pitanje:	18	66,67 %
Cjelovita rečenica bez navoda iz teksta ili s pogrešnim navodom iz teksta:	9	33,33 %
Necjelovita rečenica, bez odgovora ili pogrešan odgovor:	0	0



# Rezultat inicijalnog ispitivanja – 8. razred

## TABLIČNI I GRAFIČKI PRIKAZI

Popis stanovništva 2001.	Ukupno	Hrvati	Nacionalne manjine <sup>1)</sup>				Ostali
			svega	Romi	Slovenci	Srbi	
<b>Međimurska županija</b>	<b>118.426</b>	<b>112.746</b>	<b>4.272</b>	<b>2.887</b>	<b>522</b>	<b>248</b>	<b>615</b>
Grad Čakovec	30.455	28.435	1.625	1.105	120	144	256
Grad Mursko Središće	6.548	6.260	139	7	83	7	42
Grad Prelog	7.871	7.738	58	0	11	11	36
<b>Općine - zbirno</b>	<b>73.552</b>	<b>70.313</b>	<b>2.450</b>	<b>1.775</b>	<b>308</b>	<b>86</b>	<b>281</b>

Popis stanovništva 2011.	Ukupno	Hrvati	Nacionalne manjine <sup>1)</sup>				Ostali
			svega	Romi	Slovenci	Srbi	
<b>Međimurska županija</b>	<b>113.804</b>	<b>106.744</b>	<b>7.060</b>	<b>5.107</b>	<b>516</b>	<b>249</b>	<b>1.188</b>
Grad Čakovec	27.104	25.410	1.694	1.039	80	136	439
Grad Mursko Središće	6.307	5.870	437	285	63	9	80
Grad Prelog	7.815	7.691	124	0	24	10	90
<b>Općine - zbirno</b>	<b>72.578</b>	<b>67.773</b>	<b>4.805</b>	<b>3.783</b>	<b>349</b>	<b>94</b>	<b>579</b>

### 9. Broj stanovnika Međimurja 2011. godine je (označi JEDAN točan odgovor): (1 bod)

63% ispitanika (17 od 27) točno je odgovorilo na pitanje.

[Više pojedinosti](#) 💡 Insights

- jednak kao i 2001. godine 0
- veći nego 2001. godine 10
- manji nego 2001. godine 17 ✓

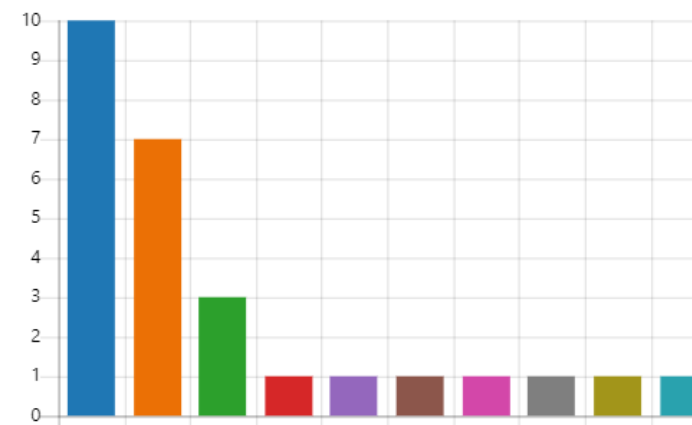


### 10. Koliko stanovnika je ukupno živjelo u Međimurju 2001. godine? (1 bod)

26% ispitanika (7 od 27) točno je odgovorilo na pitanje.

[Više pojedinosti](#)

- answer\_other 10
- 118.426 7 ✓
- 118.426 stanovnika 3
- 1.118 1
- 118.426 Stanovnika. 1
- 118.426 stanovnika 1
- 2.887 1
- 2001. godine u Međimurju uk... 1
- U Međimurju 2001. godine je ... 1
- U Međimurju 2001. godine uk... 1



# Rezultat inicijalnog ispitivanja – 8. razred

## TABLIČNI I GRAFIČKI PRIKAZI

Popis stanovništva 2001.	Ukupno	Hrvati	Nacionalne manjine <sup>1)</sup>				Ostali
			svega	Romi	Slovenci	Srbi	
<b>Međimurska županija</b>	<b>118.426</b>	<b>112.746</b>	<b>4.272</b>	<b>2.887</b>	<b>522</b>	<b>248</b>	<b>615</b>
Grad Čakovec	30.455	28.435	1.625	1.105	120	144	256
Grad Mursko Središće	6.548	6.260	139	7	83	7	42
Grad Prelog	7.871	7.738	58	0	11	11	36
<b>Općine - zbirno</b>	<b>73.552</b>	<b>70.313</b>	<b>2.450</b>	<b>1.775</b>	<b>308</b>	<b>86</b>	<b>281</b>

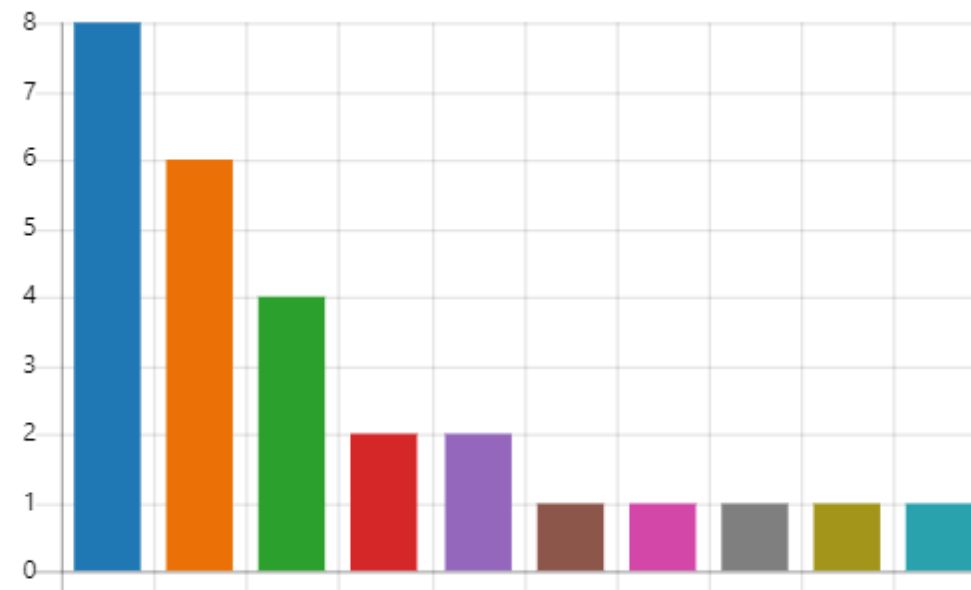
Popis stanovništva 2011.	Ukupno	Hrvati	Nacionalne manjine <sup>1)</sup>				Ostali
			svega	Romi	Slovenci	Srbi	
<b>Međimurska županija</b>	<b>113.804</b>	<b>106.744</b>	<b>7.060</b>	<b>5.107</b>	<b>516</b>	<b>249</b>	<b>1.188</b>
Grad Čakovec	27.104	25.410	1.694	1.039	80	136	439
Grad Mursko Središće	6.307	5.870	437	285	63	9	80
Grad Prelog	7.815	7.691	124	0	24	10	90
<b>Općine - zbirno</b>	<b>72.578</b>	<b>67.773</b>	<b>4.805</b>	<b>3.783</b>	<b>349</b>	<b>94</b>	<b>579</b>

### 11. Koja nacionalna manjina je bila najbrojnija 2011. godine? (1 bod)

15% ispitanika (4 od 27) točno je odgovorilo na pitanje.

[Više pojedinosti](#)

- answer\_other 8
- međimurska županija 6
- Romi 4 ✓
- 2011. godine najbrojnija nacio... 2
- Romska nacionalna manjina. 2
- 113.804 stanovnika 1
- 113.804 Stanovništva. 1
- 2011. godine najbrojnija nacio... 1
- 6.532 1
- Hrvati 1



# Rezultat inicijalnog ispitivanja – 8. razred

## TABLIČNI I GRAFIČKI PRIKAZI

### 12. Koje nacionalne manjine je 2011. godine bilo najmanje u Međimurju? (1 bod)

19% ispitanika (5 od 27) točno je odgovorilo na pitanje.

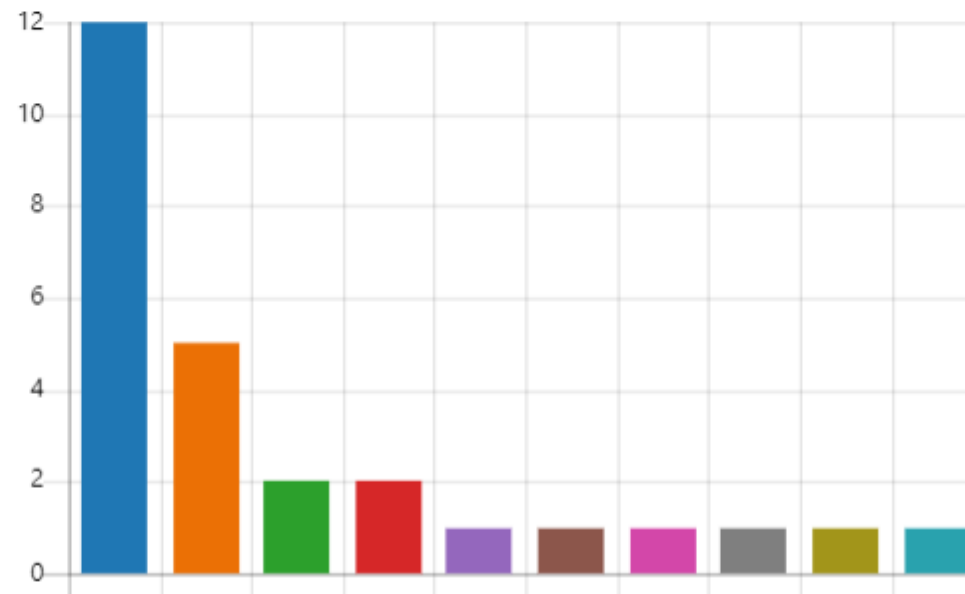
[Više pojedinosti](#)

Popis stanovništva 2001.	Ukupno	Hrvati	Nacionalne manjine <sup>1)</sup>				Ostali
			svega	Romi	Slovenci	Srbi	
<b>Međimurska županija</b>	<b>118.426</b>	<b>112.746</b>	<b>4.272</b>	<b>2.887</b>	<b>522</b>	<b>248</b>	<b>615</b>
Grad Čakovec	30.455	28.435	1.625	1.105	120	144	256
Grad Mursko Središće	6.548	6.260	139	7	83	7	42
Grad Prelog	7.871	7.738	58	0	11	11	36
<b>Općine - zbirno</b>	<b>73.552</b>	<b>70.313</b>	<b>2.450</b>	<b>1.775</b>	<b>308</b>	<b>86</b>	<b>281</b>

Popis stanovništva 2011.	Ukupno	Hrvati	Nacionalne manjine <sup>1)</sup>				Ostali
			svega	Romi	Slovenci	Srbi	
<b>Međimurska županija</b>	<b>113.804</b>	<b>106.744</b>	<b>7.060</b>	<b>5.107</b>	<b>516</b>	<b>249</b>	<b>1.188</b>
Grad Čakovec	27.104	25.410	1.694	1.039	80	136	439
Grad Mursko Središće	6.307	5.870	437	285	63	9	80
Grad Prelog	7.815	7.691	124	0	24	10	90
<b>Općine - zbirno</b>	<b>72.578</b>	<b>67.773</b>	<b>4.805</b>	<b>3.783</b>	<b>349</b>	<b>94</b>	<b>579</b>

- answer\_other 12
- Srbi 5 ✓
- grad mursko središće 2
- grad mursko središte 2
- 1.118 Međimurska Županija. 1
- 2011.godine najmanja nacion... 1
- Grad Prelog 1
- Mursko Središće 1
- Nacionalna manjina koje je bil... 1
- Najmanja manjina bili su srbi. 1



# Rezultat inicijalnog ispitivanja – 8. razred

## TABLIČNI I GRAFIČKI PRIKAZI

13. Pročitaj tvrdnje i na temelju podataka iz tablice odredi jesu li točne ili netočne.  
(4 bodovi)

[Više pojedinosti](#)

■ točno ■ netočno

Popis stanovništva 2001.	Ukupno	Hrvati	Nacionalne manjine <sup>1)</sup>				Ostali
			svega	Romi	Slovenci	Srbi	
<b>Međimurska županija</b>	<b>118.426</b>	<b>112.746</b>	<b>4.272</b>	<b>2.887</b>	<b>522</b>	<b>248</b>	<b>615</b>
Grad Čakovec	30.455	28.435	1.625	1.105	120	144	256
Grad Mursko Središće	6.548	6.260	139	7	83	7	42
Grad Prelog	7.871	7.738	58	0	11	11	36
<b>Općine - zbirno</b>	<b>73.552</b>	<b>70.313</b>	<b>2.450</b>	<b>1.775</b>	<b>308</b>	<b>86</b>	<b>281</b>

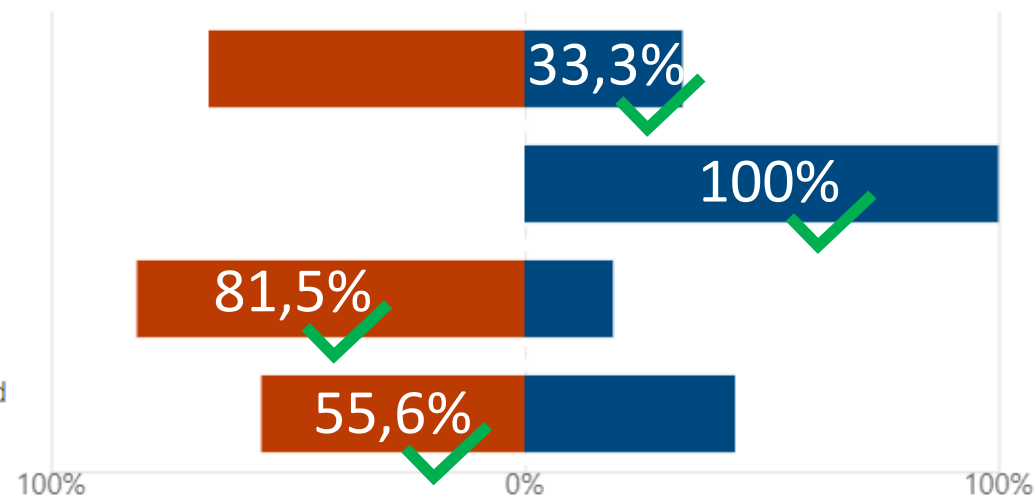
Popis stanovništva 2011.	Ukupno	Hrvati	Nacionalne manjine <sup>1)</sup>				Ostali
			svega	Romi	Slovenci	Srbi	
<b>Međimurska županija</b>	<b>113.804</b>	<b>106.744</b>	<b>7.060</b>	<b>5.107</b>	<b>516</b>	<b>249</b>	<b>1.188</b>
Grad Čakovec	27.104	25.410	1.694	1.039	80	136	439
Grad Mursko Središće	6.307	5.870	437	285	63	9	80
Grad Prelog	7.815	7.691	124	0	24	10	90
<b>Općine - zbirno</b>	<b>72.578</b>	<b>67.773</b>	<b>4.805</b>	<b>3.783</b>	<b>349</b>	<b>94</b>	<b>579</b>

U gradovima Međimurja živi više stanovnika nego u međimurskim općinama.

Slovenci su najbrojnija nacionalna manjina u Međimurju.

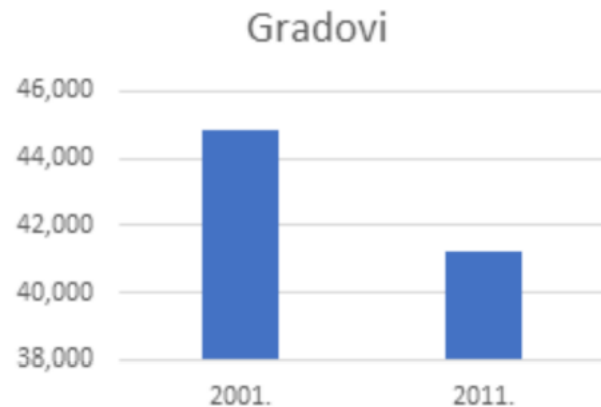
Romi ne žive u gradu Prelogu.

Broj Roma koji žive u gradu Čakovcu se u razdoblju od 2001. do 2011. godine smanjio.



# Rezultat inicijalnog ispitivanja – 8. razred

## TABLIČNI I GRAFIČKI PRIKAZI



14. Na temelju podataka iz tablice, izrađen je grafikon koji pokazuje usporedni odnos broja stanovnika u gradovima 2001. i 2011. godine.

Promotri grafikon i razmisli o istinitosti sljedeće tvrdnje:

„Iz grafikona se vidi da je 2001. godine u gradovima živjelo dvostruko više stanovnika nego 2011. godine.“

Je li ta tvrdnja istinita?

30% ispitanika (8 od 27) točno je odgovorilo na pitanje.

[Više pojedinosti](#)

Insights



# Rezultat inicijalnog ispitivanja – 8. razred

## TABLIČNI I GRAFIČKI PRIKAZI



15. „Iz grafikona se vidi da je 2001. godine u gradovima živjelo dvostruko više stanovnika nego 2011. godine.“ Je li ta tvrdnja istinita?

**TOČAN ODGOVOR ('NE') – uglavnom smisleno objašnjenje odgovora**

**NETOČAN ODGOVOR ('DA') – učenici ne objašnjavaju svoj odgovor ili ga ne objašnjavaju smisleno**

8

19

29,63 %

70,37 %

# Rezultat inicijalnog ispitivanja – 8. razred

PLAKAT

## MIR. MIR. MIR. NIŠKO NIJE KRIV...

Posjetite besplatne **kreativne radionice za djecu i roditelje** u parku Zrinjevac, koji na Svjetski dan mira postaje Park tolerancije, u organizaciji Centra za promicanje tolerancije i očuvanje sjećanja na holokaust te Vijeća Gradske četvrti Donji grad.

**Zrinjevac, petak 21.9.2018. od 15 do 18 sati**

Organizator:

CENTAR  
TOLERANCIJE  
ZAGREB

Partner:

VUČE  
GRADSKJE ČETVRTI  
DONJI GRAD

Medijski  
pokrovitelj:

24  
SATI



# Rezultat inicijalnog ispitivanja – 7. razred

PLAKAT

Posjetite besplatne  **kreativne radionice za djecu i roditelje**  u parku Zrinjevac, koji na Svjetski dan mira postaje Park tolerancije, u organizaciji Centra za promicanje tolerancije i očuvanje sjećanja na holokaust te Vijeća Gradske četvrti Donji grad.

**Zrinjevac, petak 21.9.2018. od 15 do 18 sati**

16. **Što je bila glavna tema kreativnih radionica? (označi JEDAN točan odgovor) (1 bod)**

52% ispitanika (14 od 27) točno je odgovorilo na pitanje.

[Više pojedinosti](#)

<input type="radio"/>	Druženje djece i roditelja.	5	
<input checked="" type="radio"/>	Promicanje tolerancije i očuva...	14	✓
<input type="radio"/>	Uređivanje parka Zrinjevac.	0	
<input type="radio"/>	Obilježavanje Svjetskog dana ...	8	





# Rezultat inicijalnog ispitivanja – 8. razred

PLAKAT

Posjetite besplatne **kreativne radionice za djecu i roditelje** u parku Zrinjevac, koji na Svjetski dan mira postaje Park tolerancije, u organizaciji Centra za promicanje tolerancije i očuvanje sjećanja na holokaust te Vijeća Gradske četvrti Donji grad.

**Zrinjevac, petak 21.9.2018. od 15 do 18 sati**

17. **Potraži na plakatu sljedeće podatke i napiši odgovor.**

**Mjesto održavanja radionica?**

(1 bod)

96,3 % ispitanika (26 od 27) točno je odgovorilo na pitanje.

# Rezultat inicijalnog ispitivanja – 8. razred

PLAKAT

Posjetite besplatne **kreativne radionice za djecu i roditelje** u parku Zrinjevac, koji na Svjetski dan mira postaje Park tolerancije, u organizaciji Centra za promicanje tolerancije i očuvanje sjećanja na holokaust te Vijeća Gradske četvrti Donji grad.

**Zrinjevac, petak 21.9.2018. od 15 do 18 sati**

18. **Potraži na plakatu sljedeće podatke i napiši odgovor.**  
**Dan održavanja? (1 bod)**

92,59 % ispitanika (25 od 27) točno je odgovorilo na pitanje.

# Rezultat inicijalnog ispitivanja – 8. razred

PLAKAT

Posjetite besplatne **kreativne radionice za djecu i roditelje** u parku Zrinjevac, koji na Svjetski dan mira postaje Park tolerancije, u organizaciji Centra za promicanje tolerancije i očuvanje sjećanja na holokaust te Vijeća Gradske četvrti Donji grad.

**Zrinjevac, petak 21.9.2018. od 15 do 18 sati**

19. **Potraži na plakatu sljedeće podatke i napiši odgovor.**  
**Vrijeme održavanja? (1 bod)**

96,3 % ispitanika (26 od 27) točno je odgovorilo na pitanje.

# Rezultat inicijalnog ispitivanja – 8. razred

PLAKAT

Posjetite besplatne **kreativne radionice za djecu i roditelje** u parku Zrinjevac, koji na Svjetski dan mira postaje Park tolerancije, u organizaciji Centra za promicanje tolerancije i očuvanje sjećanja na holokaust te Vijeća Gradske četvrti Donji grad.

**Zrinjevac, petak 21.9.2018. od 15 do 18 sati**

20. **Potraži na plakatu sljedeće podatke i napiši odgovor.**  
**Organizator događaja?** (1 bod)

96,3 % ispitanika (26 od 27) točno je odgovorilo na pitanje.

# Rezultat inicijalnog ispitivanja – 8. razred

PLAKAT

Posjetite besplatne **kreativne radionice za djecu i roditelje** u parku Zrinjevac, koji na Svjetski dan mira postaje Park tolerancije, u organizaciji Centra za promicanje tolerancije i očuvanje sjećanja na holokaust te Vijeća Gradske četvrti Donji grad.

**Zrinjevac, petak 21.9.2018. od 15 do 18 sati**

21. Pročitaj tvrdnje i na temelju podataka sa plakata odredi jesu li točne ili netočne.

(4 bodovi)

[Više pojedinosti](#)

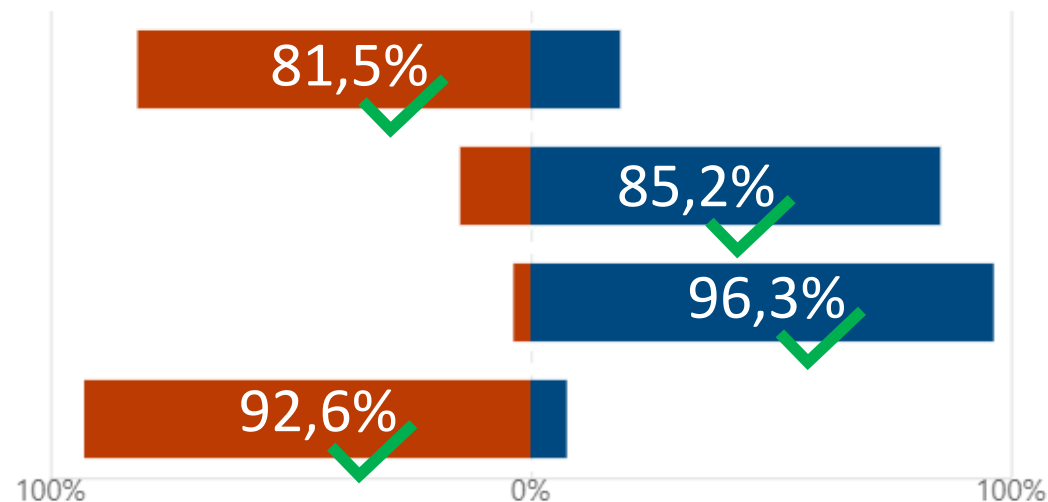
■ točno ■ netočno

Organizator je bio Centar tolerancije Zagreb.

Radionice su se naplaćivale.

Radionice su trajale cijeli dan.

Park Zrinjevac postao je Park tolerancije.



# Rezultat inicijalnog ispitivanja – 8. razred

PLAKAT

Posjetite besplatne **kreativne radionice za djecu i roditelje** u parku Zrinjevac, koji na Svjetski dan mira postaje Park tolerancije, u organizaciji Centra za promicanje tolerancije i očuvanje sjećanja na holokaust te Vijeća Gradske četvrti Donji grad.

**Zrinjevac, petak 21.9.2018. od 15 do 18 sati**

22. **Povodom čega su organizirane kreativne radionice?**

Odgovori dvjema cjelovitim rečenicama. (2 bodovi)

Broj učenika koji je u potpunosti odgovorio na pitanje:	22	81,48 %
Necjelovita rečenica, bez odgovora ili pogrešan odgovor:	5	18,52 %

# Zaključak

rezultati inicijalne provjere čitalačke pismenosti

# Rezultat inicijalnog ispitivanja – zaključak

	<b>6. RAZRED</b>	<b>7. RAZRED</b>	<b>8. RAZRED</b>
	Prosječni broj bodova: <b>23,83/34 (70,09%)</b> Naviše bodova: 30 Najmanje bodova: 20	Prosječni broj bodova: <b>28,39/39 (72,79%)</b> Naviše bodova: 35 (89,74%) Najmanje bodova: 21 (53,85%)	Prosječni broj bodova: <b>30,22/39 (77,45%)</b> Naviše bodova: 36 (92,31%) Najmanje bodova: 21 (53,85%)
<b>KNJIŽEVNI TEKST</b>	Prosječni broj bodova: 7,08/10 ( <b>70,8%</b> ) Naviše bodova: 10 (100%) Najmanje bodova: 4 (40%)	Prosječni broj bodova: 7,67/10 ( <b>76,7%</b> ) Naviše bodova: 10 (100%) Najmanje bodova: 5 (50%)	Prosječni broj bodova: 8,48/10 ( <b>84,8%</b> ) Naviše bodova: 10 (100%) Najmanje bodova: 5 (50%)
<b>NEKNJIŽEVNI TEKST</b>	Prosječni broj bodova: 5,83/8 ( <b>72,86%</b> ) Naviše bodova: 7 (87,5%) Najmanje bodova: 4 (50%)	Prosječni broj bodova: 5,83/8 ( <b>72,86%</b> ) Naviše bodova: 8 (100%) Najmanje bodova: 3 (37,5%)	Prosječni broj bodova: 6,07/8 ( <b>75,86%</b> ) Naviše bodova: 8 (100%) Najmanje bodova: 3 (37,5%)
<b>TABLIČNI I GRAFIČKI PRIKAZI</b>	Prosječni broj bodova: 2,75/6 ( <b>45,83%</b> ) Naviše bodova: 6 (100%) Najmanje bodova: 2 (33,33%)	Prosječni broj bodova: 6,28/10 ( <b>62,8%</b> ) Naviše bodova: 10 (100%) Najmanje bodova: 4 (40%)	Prosječni broj bodova: 6,07/10 ( <b>60,7%</b> ) Naviše bodova: 10 (100%) Najmanje bodova: 3 (30%)
<b>PLAKAT</b>	Prosječni broj bodova: 8,17/10 ( <b>81,7%</b> ) Naviše bodova: 10 (100%) Najmanje bodova: 6 (60%)	Prosječni broj bodova: 8,67/11 ( <b>78,82%</b> ) Naviše bodova: 11 (100%) Najmanje bodova: 7 (63,64%)	Prosječni broj bodova: 9,59/11 ( <b>87,18%</b> ) Naviše bodova: 11 (100%) Najmanje bodova: 7 (63,64%)